

AKO SA MATEMATIKA SKAMARÁTILA S ROZPRÁVKOU




AKO SA MATEMATIKA SKAMARÁTILA S ROZPRÁVKOU

Autori: PaedDr. Katarína Poláčiková
a žiaci 7. ročníka ZŠ s MŠ Brezovica:
Veronika Grmanová
Dávid Hajdúk
Patrik Hajdúk
Filip Hucík
Patrik Hucík
Stanislav Kanik
Tomáš Kaník
Nina Kovaliková
Nikola Krnáčová
Soňa Kubášková
Matúš Litviak
Eva Lužbet'áková
Mário Marhevka
Maroš Osad'an
Michal Pakos
Lívia Sirotová
Nikola Stančíková
Erik Števaňák
Žaneta Števaňáková

Kniha matematických rozprávok vznikla vďaka programu Školy pre budúcnosť
Nadácie Orange

Ako kombajn kosil

(Dávid Hajdúk)



Kde bolo, tam bolo, žil raz jeden kombajn, ktorý rád kosil. Za jeden deň pokosil 3,2 hektára ovsa a 4 hektáre kukurice. Koľko pokosil ovsa za 7 dní? Vo štvrtok začal kosiť jačmeň. Celý týždeň bolo mokrejšie a tak za jeden deň pokosil 2,5 hektára jačmeňa. Koľko pokosil jačmeňa do konca týždňa? V sobotu sa mu pokazil kombajn. Neťahal mu naftu a praskla mu nádrž na olej. Za nádrž zaplatil 526,31 € a za pumpičku na naftu zaplatil 4 €. Koľko zaplatil spolu? Po oprave kombajn predal a žil šťastne až do smrti.

Deväť prasiatok

(Evka Lužbet'áková)



Kde bolo, tam bolo, žilo raz v chalúpke 9 prasiatok. Raz išlo 6 prasiatok na pašu zarobiť na chlieb a 3 zostali doma. Tri prasiatka, čo zostali doma, zjedli 5 kilogramov krupicovej kaše a vypili 9 litrov mlieka. Koľko kilogramov krupice a litrov mlieka zjedlo a vypilo každé prasiatko? Prvé prasiatko varilo kašu. Dalo tam 10 l vody a 10 gramov zemiakov. Aký veľký musel byť hrniec? Druhé prasiatko kosilo trávnik s rozlohou 5 m² a 7 árov. Koľko m² trávniku pokosilo? A tretie prasiatko sa ulievalo na notebooku 2 a pol hodiny. Keď notebook vydrží maximálne 3 hodiny, za koľko hodín by sa notebook vybil? Bol večer a domov sa vrátilo zvyšných 6 prasiatok. Lahli si unavení do postele. A zrazu puklo 5 postelí. Koľko prasiatok nemalo kde spať? Za 2 mesiace každé jedno prasiatko pribralo 10 kg. Koľko vážia prasiatka teraz, keď pred 2 mesiacmi vážili 5 kg? Každý jeden deň cvičili všelijaké cviky, aby mali opäť svoju pôvodnú váhu. Až nakoniec schudli 10kg a boli šťastné, že sú opäť chudé. A sľúbili si, že už nebudú toľko jesť.

Siedma trieda

(Erik Števaňák)



V našej triede je 19 žiakov. Ak 5 z nich ochorie a 3 odídu, koľko žiakov bude v triede? V tejto triede je stále hluk a neporiadok. Niet divu, že pani učiteľky na dozore stále kričia. Raz však dvaja najhorší žiaci neprišli. Trieda bola hneď lepšia. Na hodine výtvarnej výchovy sme nakreslili 79 štvorcov. 24 z nich sme vyfarbili. Koľko štvorcov ostalo nevyfarbených? Po nejakom čase sa trieda vybrala na výlet na turistiku. Dĺžka trate bola 3 km a 28 m. Koľko to bolo metrov? Zrazu si žiačka menom Žaneta zlomila nohu. Záchranári tam boli do hodiny. Žanete sa noha po 2 mesiacoch uzdravila a zasa chodila ako predtým. Už sa tento príbeh končí, tak vám aspoň poviem mená žiakov: Maroš, Eva, Nikola, Paťo, Žaneta, Mário, Dávid, Mišo, Soňa, Matúš, Veronika, Tomáš, Nikola, Stano, Nina, Paťo, Lívia, Filip a ja.

Tri prasiatka

(Nikolka Krnáčová)



Kde bolo, tam bolo, žila raz jeden rodinka. Rodinka prasiatok. Bývali v domčeku hlboko v lese. V domčeku bývali: prasiatka, otec a mama. Každé prasiatko malo 2 bratov. Koľko bolo v domčeku prasiatok, ak aj mama a otec mali v dome súrodencov? Prvé prasiatko sa volalo - Robertino. Druhé sa volalo - Kalokagathino. A tretie sa volalo - Cyrilinomeninkilo. Matka sa volala - Cilka. A otec sa volal Džindžischán. Z koľkých rôznych písmen sa mená skladajú? Prvé prasiatko má 13 rokov. Druhé prasiatko má 11 rokov. Tretie prasiatko má 18 rokov. Koľko rokov má mama, ak je od najstaršieho prasiatka staršia o 27 rokov? Po piatich rokoch sa každé prasiatko odst'ahovalo od svojich rodičov. Koľko malo každé prasiatko rokov keď odišlo? A všetky prasiatka žili šťastne, až kým nepomreli.

Tri prasiatka

(Lívia Sirotová)



Boli raz traja bratia, tri prasiatka. Rozhodli sa osamostatniť a postaviť si svoje vlastné domčeky. Prvé prasiatko chcelo domček zo slamy. Tak si išlo slamu nakosiť. Koľko metrov štvorcových pokosilo, ak potrebovalo 20 hrstí a jednu hrst' tvoria 2 metre štvorcové? Druhé prasiatko si chcelo postaviť domček z dreva.

Lenže nemalo drevo, tak si išlo drevo požičať od prvého prasiatka. Od domu prvého prasiatka až k miestu, kde si chcelo domček postaviť druhé prasiatko, bolo 91 krokov. No druhé prasiatko poznalo skratku, ktorá má o 26 krokov menej. Koľko krokov mala skratka? Tretie prasiatko chcelo dom z tehál. No nevedelo, či má dost' tehál. Na jednu stranu potrebovalo 30 tehál. Koľko tehál potrebovalo? Keď tri prasiatka dostavali domčeky, dali si kávičku. Začali tušiť, že ich niekto sleduje. Bol to vlk, ktorý ich chcel zožrať. No prasiatka s ním začali vyjednávať. Vlč chcel jedno prasiatko. Keby mu prasiatko nedali, tak si naberie toľko jedla, koľko jedno prasiatko váži. Zobral si 3 dvojkilogramové chleby, 8 trojkilogramových masiel a 7 kilogramov salámy. Koľko váži jedno prasa? Keď si vlk nabral jedlo, stratil sa a už sa nikdy neukázal.

Cestovanie

(Dávid Hajdúk)



Bol raz jeden autobus, ktorý každý deň niekde cestoval. Jedného dňa cestoval z Brezovice do Nitry. Cesta tam mu trvala 4 hodiny. Večer, keď sa vrátil do Brezovice, tak sa pozrel koľko prešiel km. Ukazovalo mu 435 km. Zisti, koľko km mala cesta do Nitry. Na ďalší deň išiel kúpiť

naftu do Slovnaftu. 1 liter stál 1,32€. Koľko € zaplatil, ak kupoval 100l? Na takéto výlety chodieval každý týždeň.

Preteky áut

(Erik Števaňák)



Na pretekoch áut sa zúčastnilo 10 áut. Počas pretekania sa k nim pridalo ešte 6 áut. Koľko áut bolo na pretekoch? Preteky odštartovali. Jeden okruh trate bol dlhý 24 km. Preteky tvorilo 8 okruhov. Koľko km prešli? Pár áut sa počas pretekov vykoľajilo, ostalo iba 5 áut. Koľko áut sa vykoľajilo z dráhy? Prvé miesto vyhralo auto s číslom 8. Výhra za

prvé miesto je 20 000 eur. Výhra za druhé miesto bolo o 5462 eur menej ako prvé a tretie o 4563 eur menej ako druhé. Aké výhry boli? Koľko eur mali spolu na výhry?

Medvedíkov sen

(Evka Lužbetáková)




Bola raz jedna päťčlenná rodinka. Keď dvaja boli rodičia, koľko mali detí? Bolo leto. Raz sa najstaršiemu medvedíkovi snívajú sen. Snívajú sa mu o víle, ktorá povedala: „Keď sa ráno zobudíš, budeš mať zázračný med.“ Ráno sa medvedík zobudil. Dal si labu do 5-litrového medu a prial si, aby bola zima a s letom zmizli aj rodičia aj súrodenci. Nastala zima. Medvedík si prial,

aby prišli všetci naspäť domov. Ale v hrnci mal už iba 1 liter zázračného medu. A na to, aby sa vrátili všetci naspäť domov, potreboval až 3 litre. Koľko zjedol, keď mu ostal už len 1 liter? Začal plakať a prial si, aby sa všetci vrátili. Za 1 hodinu vyronil 50 sĺz. Plakal 3 hodiny. Koľko sĺz vyronil? Víla sa mu zjavila, usmiala sa a zmizla. Keď doplakal, išiel spať. Keď sa ráno zobudil, všetci boli doma. A odvtedy už nebol taký lakomý a nikdy nechcel med.

Madagaskar

(Filip Hucík)



Bol raz jeden lev menom Alex. Každý deň dostal jesť, lebo žil v zoo. Ráno dostal 2 kg jedla. Na obed dostal 3 kg. A na večeru dostal 1 kg jedla. Koľko kg jedla zjedol za deň? Nikdy nebol hladný a niekedy ho púšťali voľne medzi ľuďmi. Mal aj kamarátov menom Melmen, Gloria a Márty. Melmen mal 15 rokov, Gloria mala 13 rokov a Márty mal 16 rokov. Koľko rokov mali spolu? Boli to veľmi dobrí kamaráti, aj preto sa všetci štyria rozhodli spolu utiecť. Nastúpili do vlaku, kde bolo 120 miest. Obsadených bolo 96 miest. Koľko bolo voľných miest?

Keď vystúpili, našli ich policajti. Bola tam jedna babka a tá babka vymlátla Alexa. S bolesťami sa museli vrátiť do zoo.

Šmolkovia

(Mário Marhevka a Maroš Osad'an)



Jedného dňa sa vybral Gargamel hľadať šmolkov. A narazil na tlstého obra. Obor povedal: „Čo tu robíš?“ Gargamel rozmýšľal čo povie: „Hľadáť malých šmolov.“ Obor odpovedal: „Neviem kto sú a neviem kde sú. A vypadni z môjho domu!!!“ Gargamel rýchlo utekal domov zostrojiť stroj na chytanie šmolkov. Potreboval na to 50 m³ dreva a 20 m³ železa. Železa mal iba 10 m³ a dreva 25 m³. Koľko mu chýbalo dreva a železa na prístroj? Prístroj spojzdnil a vydal sa hľadať šmolkov. Prišiel k veľkému stromu a začul šmolkov. Vydal sa za škrekom a narazil na 86 šmolkov. Koľko ich ešte potreboval nájsť, keď ich bolo 100? Šmolkovia mu ale zatiaľ utiekli a mal po večeri. Keď už prišli domov, chceli vylepšiť dom ocka šmolka. Potrebovali naň takýto materiál: 20 m³ dreva, 10 m³ škridle a 1 dvere. Mali iba 4,5 m³ dreva a 3,5 m³ škridle. Koľko potrebovali dreva a škridle? Ocko šmolka zavolať na pílu a do Blachotrapezu. Opýtal sa, či majú drevo a škridlu. Keď im už dovezli materiál, pustili sa do roboty. Keď to už dokončili, tak zazvonil zvonec a rozprávky bol koniec.

Poškoláci

(Lívia Sirotová)



Bola raz jedna trieda. Bola to siedma trieda. Bolo tam 9 dievčat a 10 chlapcov. Koľko bolo žiakov spolu? Chodili do nej traja kamaráti: Noro, Riki a Silvia. Oni traja boli denno-denne po škole. Robili všelijaké výtržnosti a robili si posmešky z toho kto išiel okolo nich. Raz sa do poškoláckej triedy dostala najlepšia žiačka -Šárka. Nahliadla do klasifikačného a z matematiky mala známky 1, 1, 2, 1, 1. Aký mala priemer? Nachytala ju pani učiteľka a tak teraz až do konca školského roka musí chodiť do poškoláckej triedy. Keď zbadala tých troch (Nora, Rikiho a Silviu), trochu ju zarazilo s kým bude musieť do tejto triedy chodiť. Netrvalo dlho a už sa spolu ako tak skamarátili. Raz si Šárka zmyslela, že chce lepšie zapadnúť do kolektívu, tak schytá svoju prvú 5 z matematiky. Aký má teraz priemer, keď jej pribudla jedna 5? Raz sa zabudla naučiť na 5-minútovku a dostala ešte jednu 5 a jednu 3. Aký priemer jej vychádza teraz? Keď si konečne uvedomila, že jej hrozí 2, začala sa učiť. Koľko jednotiek jej treba, aby jej vychádzal priemer známok na jednotku? S výtržníkmi sa prestala stretávať, našla si nových kamošov a zase bolo všetko tak ako má byť.

Pat a Mat

(Maroš Osad'an)



Bolo raz prekrásne ráno. Mat sa rozhodol opraviť luster. Potreboval 4 šróby, 1 uťahovačku a 12 klincov. Keď zašiel do obchodu, kúpil 3 šróby, 1 uťahovačku a 7 klincov. Koľko mu toho chýbalo? Začal pracovať a v tom prišiel Pat. Spýtal sa, čo robí. Povedal: „Opravujem luster.“ Pat sa spýtal, či nepotrebuje pomôcť. Mat ho poslal do obchodu kúpiť 18 podložiek a 7 matíc. Keď prišiel Pat do obchodu, kúpil 6 podložiek a 4 matice. Koľko toho zabudol kúpiť? Keď sa vrátil, spolu doriadili luster. Od tej doby žili šťastne a s porozumením.

Shrek a Fiona

(Mário Marhevka)



Bol raz jeden Shrek, ktorý si chcel zobrať Fionu za ženu. Na svadbu potreboval však obrúčky. Tak vzal peniaze a išiel ich do zlatníctva kúpiť. Mal však len 100 eur a potreboval 189,68 eur. Tak sa vybral domov po 200 eur. Keď sa vrátil do zlatníctva, zaplatil za obrúčky. Koľko mu vydali z 200-eurovky? Keď sa vrátil domov, rozhodol sa, že pošle pozvánky. Pozvánok bolo 500. Fiona chcela pozvať len 198 ľudí. Shrek chcel pozvať 204 ľudí. Koľko im ostalo pozvánok? Keď už začala svadba, prišlo im iba 333 hostí. Objednaných jedál mali 402. Koľko obedov ostalo?

Knihy

(Nikolka Stančíková)




Bola raz jedna knižnica, ktorá mala zatiaľ 5000 kníh. V priebehu jedného týždňa objednala knihovnička Kačička ďalších 120 kníh. To sa dialo celý mesiac. Koľko kníh objednala knihovnička Kačička v priebehu celého mesiaca, ak 1 mesiac má 4 týždne? Po mesiaci prišli mláďatká: 2 medvedíky, 4 žabky, 5 líšok, 3 vlci a 6 zajačikov. Koľko prišlo mláďat?

Každé mláďatko si požičalo 2 knihy. Ale štyria si požičali 5 kníh. Koľko kníh si požičali všetci spolu? Po niekoľkých hodinách prišli dospelé zvieratká. Bolo ich o 10 viac ako mláďat. 50% z nich si požičalo 1 knihu. A ďalších 50% si požičalo 2 knihy. Koľko je dospelých zvierat? Koľko zvierat si požičalo 1 knihu, a koľko 2 knihy? Koľko si požičali kníh spolu? Potom sa všetci spokojne vrátili domov k svojim mláďatkám a spolu pri šálke teplého čaju prečítali veľa kníh. Koľko kníh sa počas celého dňa požičalo?

Tučniaci z Madagaskaru

(Michal Pakos)



Tučniaci mali pokojný deň. Kovalský vymýšľal novú zbraň, ktorou čokoľvek zmrazí. Riko sa hral s bábikou a pešiak s poníkom. Len kapitán bol čoraz šťastnejší, lebo sa mu celý deň darilo. No zrazu začul v rádií, že sa k nemu blíži starý nepriateľ menom Doktor Špeky. Bol to tučniak z Antarktídy. Bol už v štvrtine svojej cesty. Koľko mu ešte chýbalo, keď z Antarktídy do New Yorku je 32 354 km? A za koľko hodín k nim dorazí, keď rýchlosť lietadla je 533 km/h? Tučniaci sa obávali Doktora, lebo nevedeli, čo má za lubom. Boli prichystaní na vojnu. Lenže Špeky chcel súťažiť s kapitánom. Dohodli sa na troch disciplínach: plávanie, jedenie a kvíz. V plávaní vyhral kapitán, v kvíze Špeky. Už ostávalo iba jedenie. Špeky zjedol 23 rýb a kapitán o 21 rýb viac. Kto vyhral a koľko rýb zjedol?

Naša trieda

(Ninka Kováliková)



Kedysi dávno na konci školského roka nás bolo 20 a 2 žiaci odišli na inú školu. Jeden žiak k nám privítal do triedy. Koľko nás je tento školský rok? Jedného slnečného dňa sme sa dohodli, že pôjdeme na opekačku. Zúčastnilo sa 8 dievčat a 11 chlapcov. Pani učiteľky kúpili 3 balíčky špekačiek. V jednom balíku ich bolo 20. Koľko ich kúpili? Začali sme opekať. No dievčatá chceli iba 2 špekačky a chlapci 3 špekačky. Koľko špekačiek sa minulo a koľko ostalo? Keď sme sa dosýta najedli a pojedli všetky sladkosti, rozhodli sme sa, že sa ideme zahrať nejaké hry. Mali sme 3 lopty. Chceli sme sa k nim rozdeliť do skupín, no nevedeli sme ako. 10 žiakov sa vôbec nechcelo hrať. Tak sa vybrali do lesa. Zostalo 9 žiakov. Ako sme sa mali rozdeliť do 3 skupín? Z lesa nikto neprichádzal. Išli sme ich hľadať. Keď sme ich našli, kričali: „Utekajte, naháňa nás medveď!“ Do obce to boli 3 km. Koľko metrov sme museli prejsť, aby sme utiekli pred medveďom? Našťastie sme mu ušli. Všetci sme šťastlivo prišli domov.

Červená čiapočka

(Nikolka Stančíková)



Bolo raz jedno nepodarené dievča. Nosilo červené šaty, červené pančucháče, červené bagandže a červenú baranicu. Preto ju volali ČERVENÁ ČIAPOČKA, ale niektorí ČéČé. Jedného rozprávkového dňa si ju zavolala jej mamka. Povedala jej, že babička veľmi ochorela na silný zápal pľúc a tak k nej bude musieť ísť na prázdniny. Nachystala jej do vreca na smeti 1 fľašu vína, 4 jablká, 2 pomaranče, 6 lízatok a 2 horalky. Koľko kusov potravín jej mamka nachystala? ČéČé ako vždy musela niečo vyviešť. Tentokrát zjedla zo všetkého 50%. Koľko jej ostalo potravín teraz? Po ceste cez les stretla vlka. Ten jej povedal, aby nazbierala babičke 10kvetín. Ale aj toto spravila ČéČé zle. Nazbierala 8-krát viac. Koľko nazbierala kvetín? Keď prišla k babičke, nebolo tam všetko v poriadku. Babička neležala v posteli, ale naháňala sa s vlkom a horárom. Pri behu 60km/h babička vyzdravela. Všetci sa skamarátili a aj mamka sa nejakým zázrakom ukázala u babičky. Nikto nevedeli ako. Ale mamka im to vysvetlila: "V každej rozprávke sa dejú zázraky." A potom zjedli zvyšok jedla z vreca.

Snehulienka a 7 trpaslíkov


(Maroš Osad'an)



Za 7 horami a za 7 dolinami stál nádherný zámok. Bývala tam Snehulienka s otcom, macochou a nevlastnou sestrou. Macocha vyhnala Snehulienku do lesa a kázala kráľovi, aby ju zastrelil. Ale on to neurobil. Nezastrelil ju. V lese stálo 148 stromov, na čistinke bolo o štvrtinu stromov menej. Koľko bolo stromov na čistinke a koľko bolo stromov spolu? Za čistinkou bola chalúpka a v nej 7 trpaslíkov a 25 lesných zvierat: 5 jeleňov, 7 srniek a zvyšok boli veveričky a sýkorky. Sýkoriek bolo 2-krát viac ako jeleňov. Koľko bolo veveričiek? Trpaslíci Snehulienke pomohli zničiť zľú macochu. Krásny princ prišiel a zobral si Snehulienku do svojho zámku a všetci žijú šťastne až do dnes.

3 traktory Zetory

(Matúš Litviak a Tomáš Kaník)



Boli raz 3 traktory Zetory: Zetor 6945 - ten vážil 4,5 t, Zetor 25 - vážil 1832 kg a Zetor 7211 - vážil 5089 kg. Koľko kg mali spolu? Pochádzali z Brezovice a robili na poli spolu skoro každý deň. Raz išli do lesa na drevo. Zetor 6945 utiahol na vlečke 7m^3 , Zetor 25 utiahol 5m^3 a Zetor 7211 7m^3 . Drevo zle uviazali a každému traktorovi z vlečky spadlo po 1m^3 dreva. 3m^3 dreva odviezli na pílu.

Koľko dreva ostalo? Ráno do traktorov ich majitelia Tomáš, Pat'o a Matúš naliali naftu. Spolu minuli 69 litrov nafty. Koľko naliali v priemere do každého traktora? Na druhý deň išli Tomáš a Pat'o kúpiť naftu. Kúpili 200 litrov nafty. 1 liter nafty stojí 1,50 €. Zobrali si 500 €. Koľko im vydali? Na ďalší deň bola nedeľa. A tak iba oddychovali v stodole. Bolo pekné počasie a na druhý deň sa chystali kosiť. Prvý traktor skosil 3500m^2 , druhý skosil 3900m^2 a tretí traktor skosil 2900m^2 . Každý minul 15 litrov nafty. Koľko árov skosili a koľko nafty minuli? Každý deň seno obracali a za 3 dni uschlo. Na štvrtý deň ho zhrabali do riadkov a chceli ho povozit' do stodoly. Prvý traktor zaviezol 3 horaly, druhý traktor odviezol 4 horaly a tretí traktor 5 horalov. Každý horal odvezie na 1-krát 20m^3 sena. Koľko sena bolo spolu v stodole? Traktory každý deň pracovali, až kým sa nepokazili.

Pat a Mat

(Mário Marhevka)



Raz sa Pat rozhodol, že pokosí trávnik. Ale kosačka bola rozobratá. Na poskladanie potreboval 60 šróbov. Mal len 28. Od Mata si požičal zvyšné. Koľko si ich požičal od Mata? Keď začal kosiť, zistil, že okolo svojho domu ma pokosiť 350m^2 a okolo Matovho ma pokosiť 389m^2 . Koľko m^2 ma pokosiť? Mat zatiaľ išiel kúpiť benzín do auta. V nádrži mal 5 litrov benzínu. Chcel do auta natankovať 80l. Objem nádrže je 99 l. Koľko ešte môže dotankovať?

Snehulienka

(Lívia Sirotová)



Bola raz jedna dievčina, ktorá sa volala Snehulienka. Bola pestúnkou siedmich trpaslíkov. Každý trpaslík mal po dve mamy. Koľko mám mali spolu? Snehulienka k nim prišla, keď mala 19 rokov. Teraz má 32. Koľko rokov s nimi strávila? Snehulienka dúfala, že príde po ňu udatný princ a že si ju vezme za ženu. Sen sa jej splnil, ale ešte o tom nevedela. Princ sa brodil cez hustý les. Len čo vyšiel z lesa, zbadal jazero. Na druhom brehu bol domček, kde bývala Snehulienka. Princ obišiel les. Koľko hodín mu trvala cesta, ak trasa mala dĺžku 120 km a za jednu hodinu prejde 5 km?

Keď prišiel k domčeku, požiadal Snehulienku o ruku a bola svadba. Princ pozval 1234 hostí a Snehulienka pozvala 531 hostí. Koľko hostí bolo na oslave? Mali veľa detí a žili šťastne až do smrti.

Prechádzka

(Ninka Kováliková)



Jedného dňa sa dohodli Karin, Soňa a Mária, že sa pôjdu prejsť. Dohodli sa, že Karin a Mária prídu po Soňu. Keď prišli po Soňu, zistili, že Soňa nevie vypočítať domácu úlohu $5.3+12.23-15.3$. Pomôžeš jej? Dohodli sa, že prejdú trasu 850 m. Ako si tak kráčali, napadla Soňu otázka, koľko majú všetky spolu rokov. Soňa mala 2- krát viac ako Karin a Mária mala 3- krát viac ako Karin. (Pomôcka: súčet Soniných a Karininých rokov je 15) Keď sa vrátili domov, napadlo Márii, koľko prešli spolu kilometrov a koľko išli hodín (PS: nezabudni že sa aj vracali tou istou cestou!!!). A ešte sa zastavili v obchode.

Obchod bol blízko Soninho domu asi tak 50m. Trasa dlhá 30m im trvala 15 s.

Sedem kozliatok

(Evka Lužbetáková)




Jedného krásneho dňa sa narodilo starej koze 7 malých kozliatok. Každé bolo hladné a chcelo mliečko. Starej koze došli zásoby mlieka a išla do obchodu. Jeden liter mlieka stojí 0,50 eur, vzala si 4 eurá. Koľko litrov mlieka mohla kúpiť? Potom sa vrátila späť do chalúpy. Dala každému kozliatku po pol litra mlieka. Koľko zostalo mlieka? Potom sa

všetci najedli a išli spať. Prešli 2 roky a kozliatka podrástli. Raz sa im pokazil vodovod a tak nemali čo piť. Stará koza musela ísť do obchodu, lebo kozliatka boli smädné a aj ona. A zabudla im pripomenúť, aby nikomu neotvárali. Keď každé kozliatko vypilo 1 liter vody. Koľko litrov vody musela kúpiť? Za ten čas prišiel vlk. Zaklopal na dvere chalúpy. Kozliatka si mysleli, že je to ich mamička. Tak otvorili, no z dverí vyšiel vlk. Jedno kozliatko sa stihlo schovať do pece. Koľko zjedol vlk kozliatok? Vlk bol hrozne plný a tak sa išiel napíť ku studni. Vtom prišla domov stará koza a nevidela nikde svojich sedem kozliatok. Iba jedno akurát vyšlo z pece. Povedalo svojej mamičke, že prišiel vlk a zjedol 6 kozliatok a išiel sa napíť vody ku studni. Stará koza šla ku studni a tam videla vlka. Prišla bližšie k nemu, rozpárala mu brucho rohami a z brucha vyšlo 6 kozliatok. Vrátili sa šťastne do chalúpy. Vlk im sľúbil, že im už neublíži a nebude taký chamtivý. A tak kozliatka vlka prijali do rodiny za svojho verného kamaráta.

Balíky papierov

(Soňa Kubášková)

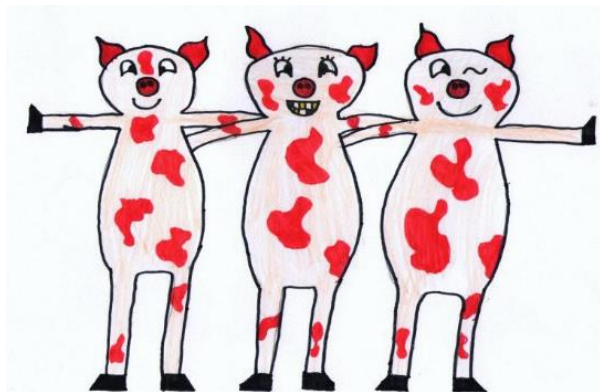


Bola raz Ivana, ktorá si rada kreslila. V písacom stolíku mala balíky papierov. V každom bol rovnaký počet papierov. Koľko papierov bolo v troch balíkoch, ak v jednom bolo 328 papierov? Niekedy Ivana minula za týždeň aj trištvrte balíka. Koľko balíkov minula za dva týždne? A takto si Ivana

stále kreslila, až kým tieto tri balíky papierov neminula.

Tri prasiatka

(Matúš Litviak)



Kde bolo, tam bolo, za siedmimi horami a siedmimi dolami, bola krajina, kde sa voda sypala a piesok lial. V tej krajine žili tri prasiatka. Jedno sa volalo Jozef, druhé Jano a tretie Alex. Bývali v jednom dome a tak si chceli postaviť každý svoj vlastný dom. Jozef začal stavať z papiera. Kúpil 1258 kg papiera.

Z toho minul 2,5%. Ten, čo mu zvýšil, predal na nemenovanom šrotovisku v Liesku. Koľko zaň dostal, ak za jeden kg papiera mu dali 0,99€? Jano začal stavať dom z balíkov sena. Od nemenovaného farmára z Brezovice kúpil 550 balíkov sena. Jeden balík sena váži 25kg. Minul polovicu sena a ostatné zanesol do Trňového potoka srnkám. Jedna srnka zožerie naraz 1,99 kg sena. Koľko srniek sa najedlo? Alex staval dom z plastelíny. V nemenovanom obchode v Japonsku si kúpil 10239 balení plastelíny v extra veľkom prevedení. 1 balenie stálo 499,99€. Aj on sa však prepočítal a ostalo mu 99,09% plastelíny. A tak ju dal na nemenovaný bazár na internete. Za jedno balenie pýtal 1285€. Po desiatich rokoch však predal iba 2% z predávanej plastelíny. Koľko balení mu ostalo? A tak si Jozef, Jano a Alex pokojne žili, až kým neprišlo tornádo s rýchlosťou 245,8945 km/h a nevezalo ich domy. A aby svojim domom nechýbali, tornádo ich vzalo s nimi. A tak chceli žiť v nebíčku. Keď boli pri svätom Petrovi, tak ich to hneď omrzelo, lebo nájom bol podľa váhy 1508 - 102580,99€ mesačne na jedno prasa. Od nich pýtali po 99999,99€ a zarábali iba 1% z nájmu. A tak sa rozhodli, že pôjdu do pekla. Cesta merala 1595km. Keďže to bola diaľnica, šli priemernou rýchlosťou 585 km/h. Ako dlho im trvala cesta? Keď však prešli polovicu cesty, začalo sa oteplovať. Za každý 1km sa oteplilo o 1°C. Koľko stupňov Celzia bolo v 90% celej cesty, ak do prvých 50% bola stála teplota 45°C? No keď prešli 99% cesty, bolo tam tak horúco, že sa upiekli. A v pekle boli radi, že sa najedia kvalitného, dobre prepečeného bravčového mäsa z poľských prasiat Jozefa, Jána a Alexa.

Kocúr v čižmách


(Nikolka Krnáčová)



Bol raz jeden kocúr. Volal sa Erik. Bol nezvyčajný, pretože chodil na dvoch nohách a dokonca v čižmách. V botníku mal 130 čižiem. Koľko párov čižiem mal v botníku, ak jeden pár tvoria 2 čižmy? Tento kocúr sa spriatelil s vajcom. Vajíčko sa volalo Mišo. Spolu vymýšľali rôzne krádeže. Za deň vymysleli 33 krádeží. Z toho sa podarili iba 3. Koľko krádeží vymysleli za rok? Koľko sa im za rok podarilo? V jeden upršaný deň sa im krádež nevydarila. Polícia ich chytila. Vajce rozbili na praženicu a mačku hodili psom.

Simpsonovci

(Matúš Litviak)



Kde bolo, tam bolo, za Skorušinskými vrchmi bola dedina, kde žilo 1358 ľudí a 1002558 zvierat. Tá dedina sa volala Brezovica, ktorá bola vzdialená 4,85946 km od Trstenej. V tejto dedine presne 1,2 km od nižného konca, 0,97 km od vyšného konca, 0,89 km od nového kostola a 0,1 km od starého kostola bývala jedna rodina, ktorá sa volala Simpsonovci. Homér Simpson bol starý grécky spisovateľ, mal 1585 rokov a 136,8 kg. March Simpsonová, ktorú prezývali Mariš, bola profesionálna športovkyňa v lezení na nervy. Mala 556 rokov a 60,9 kg. Za svoj život získala zatiaľ 8925,5 zlatých medailí. Z poslednej polovicu odhryzla, keď skúšala, či je pravá alebo ľavá a zistila že je ľavá. Bart Simpson, ktorého prezývali Brat, mal 198 rokov a 25,8 kg. Bol profesionál v počte pätiiek v žiackej knižke. Za tento rok ich mal presne 845. Líza Simpsonová, ktorú prezývali Lízák alebo Kríza, mala 0,9 roka a 7,1 kg a bola profesionálka v spaní. Zatiaľ prespala 0,6 roka. Vstane, iba keď je hladná. Koľko mali spolu rokov a na akú minimálnu hmotnosť musel byť stavaný ich dom? Ich bermudský trojuholník je posteľ, chladnička a WC. Málokedy ho opustia. Ročne spotrebujú 102,4 ton sladkostí. 1 kg sladkostí stojí 3,5 €. Koľko ročne

zaplatia za sladkosti, ak ešte šoférovi, čo im ich vozí, zaplatia 102456,82€ za rok? Homér pred desiatimi rokmi vydal knihu, ktorú si ešte nikto nekúpil. Keďže sa blížili Vianoce, tak kúpil každému do rodiny jednu. Jedna kniha mala 585 strán a stála 0,99€. Kúpil ich štyri, aby mal čo čítať aj on. Koľko za ne zaplatil? V piatok trinásteho sa stala veľká pohroma. Extra veľká chladnička v prevedení family s vnútorným objemom 353 metrov kubických bola prázdna. A tak Mariš zavolała zo svojho nového mobilu, ktorý kúpila v akcii za 9,99 €, donáškovej službe. Objednali si pizzu. Homér si objednal 1985 ks gazdovských. Jedna v extra veľkom prevedení s priemerom 1,5 m stála 123 €. Mariš si objednala 999 ks so šunkou, syrom a ananásom - tzv. Hawai. Jedna s priemerom 0,9 m stála 99,99 €. Brat si objednal 33 ks nutelových. Jedna s priemerom 3,3 m stála 333,33 €. Kríza si objednala 14 ks všetkých druhov, ktoré zatiaľ existujú aj neexistujú. Jedna mala priemer od 0,01 m až po 33,3 m a každá stála 55,12€. A tak prišlo 35829 kamiónov s ložnou plochou každého 53,85 metrov štvorcových a trvalo to 2001 ľudom 3 dni, kým to vyložili. Za to ešte zobrali 999,98 € prepitné. O koľko € sa im vyprázdnil trezory? No zásoby sa im pomaly míňali a museli si opasky utáňovať tak, že im ani posledná dierka nestačila. No za mesiac sa zásoby jedla minuli a minuli sa aj ich celoživotné úspory. A tak za chvíľu všetci pomreli, ich dom rozkradli cigáni a Homéra, Mariš, Brata a Krízu pochovali na novom cintoríne v Brezovici.

Grázlik Gabo


(Patrik Hucík)



Bol raz jeden grázlik a volal sa Gabo. Bol strašne neposlušný. Raz v škole do kaše prisypal 3 balíčky škorice. O dvanástej bol obed a keď deti začali jesť kašu, tak ju všetci vypluli. Gaba poslali za pani riaditeľkou. Ona zavolała rodičov o 13:15 a rodičia tam boli za 26 minút. O koľkej hodine prišli rodičia do školy? Odviezli si Gaba domov. Povedali mu, že má domáce väzenie až do 15-teho budúceho mesiaca. Koľko dni mal grázlik domáce väzenie, ak bolo 25. septembra? Ale Gabo utiekol z domu a išiel hrať futbal. Rodičia ho pristihli a dali mu domáce väzenie o 1 deň navyše.

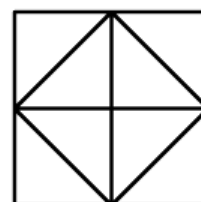
O škole

(Ninka Kováliková)



V jednej dedine Veselkovo bola škola. V tej škole bolo celkovo 460 žiakov. Z toho 45% bolo dievčat. Koľko chodí do školy chlapcov? V škole sa rozhodli, že uskutočnia výlet do Bratislavy. Koľko vyzbierali učitelia od žiakov eur na výlet, ak 25 žiakov nechcelo ísť a jeden žiak musel zaplatiť 30 €? Na výlete

v Bratislave sa veľmi zabávali, no cestou domov sa strašne nudili. Preto im pani učiteľka Kvietková vymyslela úlohu. Mali určiť, koľko štvorcov a trojuholníkov je na obrázku. Viete koľko ich je? Nad touto úlohou tak rozmýšľali a vykrikovali výsledky, až sa čudovali, že sú už doma. Domov prišli unavení, ale šťastní.



Janko a Marienka

(Patrik Hucík)




Janko a Marienka išli do lesa s otcom o 15:00 h. Povedal im, aby nazbierali do fľaše 70% bobúľ. Koľko mali nazbierať bobúľ, ak ich do fľaše vojde 1000? Medzi tým otec zmizol a Janko s Marienkou ostali sami v lese. Báli sa a tak išli naspäť. Zablúdili. Nakoniec na druhý deň prišli k domčeku z medovníkov o 11:30 h. Koľko hodín im trvalo, kým prišli k domčeku? Tam si ich zobrala do domu ježibaba. Marienke hneď dala robotu a Janka zavrela do klietky. Po 5 dňoch ježibaba už chcela Janka upiecť. Marienke povedala, nech rozloží oheň. Marienka vošla do kotolne po drevo. Bolo tam 250 kusov dreva a Marienka zobrala 45, ale potom tam

20 vrátila. Koľko kusov dreva ostalo v kotolni? Janko s Marienkou strčili ježibabu do ohňa a vrátili sa domov.

Tri prasiatka

(Patrik Hajdúk)



Žili raz tri prasiatka. Prvé prasiatko sa volalo Maroš, druhé Fero a tretie Mišo. Koľko majú spolu rokov, keď Maroš mal 23 rokov, Fero 33 rokov a Mišo 16 rokov? Jedného dňa sa rozhodli, že si každý postaví svoj dom. Koľko si chceli postaviť domov? Jedno prasiatko si postavilo dom zo slamy, druhé z dreva a tretie z tehál. Keď už mali domy postavené, tak sa k nim vybral vlk Erik, lebo mu bolo moc smutno. Koľko metrov musel prejsť, keď prešiel 16,7 km? Keď prišiel k prasiatkam, tak sa dohodli, že budú bývať všetci spolu. Žili dovtedy, až kým do jedného dňa nepomreli.

Tri kamarátky

(Soňa Kubášková)



Raz sa tri kamarátky Veronika, Sára a Sofia dohodli, že pôjdu prenocovať k Veronike. Museli sa dohodnúť, o ktorej hodine sa u nej stretnú. A tak sa dohodli na 17⁰⁰ h. Sára však na poslednú chvíľu zistila, že nemôže prísť o 17⁰⁰ po Sofiu. Zavolala jej a vysvetlila, prečo nemôže prísť. Koľko peňazí zaplatila Sára za tento telefonát, ak 1 minúta bola za 0,03 € a telefonovali 37 minút? O 10 minút potom ako dotelefonovali, už Sára zvonila u Sofie. Kým sa vybrali na cestu prešlo 15 minút. Cesta od Sofiinho domu k Veronikinmu domu trvala 28 minút. O ktorej hodine prišla Sára a Sofia k Veronike domov? Veronika mala už všetko pripravené. Chvíľu si kreslili, zabávali sa a tancovali, až stratili pojem o čase. Prešlo celých 6 hodín. Ako dlho tieto kamarátky spali, keď vstali o 7:45? Ráno zjedli: Sofia 2 jogurty a 2 rožky, Sára zjedla 2-krát viac jogurtov ako Sofia rožkov a o jeden rožok menej ako Veronika a Veronika zjedla 3 rožky a 1 jogurt. Koľko jogurtov a rožkov zjedli kamarátky?

Simpsonovci

(Patrik Hucík a Stanislav Kaník)



Bol raz jeden Homér, ktorý mal chuť na šišky. Tak si z domu zobral 7 € a išiel ich do obchodu kúpiť. Prišiel tam a zistil, že jedna šiška stojí 0,50 €. Koľko šišiek si môže kúpiť? Počas cesty domov zistil, že mu dochádza benzín. Pozrel do peňaženky, koľko tam má ešte eur. Mal tam 35€ a tak išiel na čerpaciu stanicu natankovať. Natankoval 25 litrov. Cena benzínu bola 1,25 € za liter. Koľko zaplatil za benzín? Keď prišiel domov zjedol 3 šišky, Bart zjedol 2 šišky, Líza si do školy zobrala 1 šišku a Marge zjedla 1 šišku. Koľko šišiek zostalo? Na obed si celá rodina sadla k televízoru. Pozvali aj všetkých susedov, bolo ich spolu 30. Po pol hodine odišli 15 a prišli 9. Koľko ľudí tam bolo? Keď sa skončil film odišli aj ostatní susedia. Rodinka po náročnom dni zaspala a ráno zase vstala.

Červená čiapočka

(Veronika Grmanová)



Bolo raz jedno dievčatko, ktoré všetci volali Červená čiapočka, pretože nosila iba červené oblečenie. Raz si však svoje krásne červené šaty zašpinila a musela jej mama ušit' nové. Potrebovala 15 metrov červenej látky. Koľko eur mama zaplatila za látku, ak 1 meter stál 2,50 €? Raz Červenej čiapočke ochorela stará mama. Musela jej ísť zaniest' lieky, vodu a nejaké jedlo. Liekov jej priniesla 5 druhov, vodu len jednu a jedlo tvorilo ovocie, čiže 2 banány, 5 jablák a 3 mandarínky. Koľko ovocia priniesla Červená čiapočka babičke? Keď sa vracala od babičky, išla natrhať kvietky pre svoju mamičku. Natrhala jej 28 fialiek, 14 sedmokrások a 12 púpav. Koľko kvietkov doniesla Červená čiapočka mamičke? Babička po čase vyzdravela a žili šťastne.

Korytnačka a zajac

(Žaneta Števaňáková)



Bol raz jeden zajac, ktorý vychvaľujúc sa, behal po lúke. Až kým si jedného dňa dala korytnačka s ním preteky. Na preteky sa prišli pozrieť rôzne zvieratá. Koľko bolo spolu zvierat, ak srniek bolo 20, zajacov o polovicu menej ako srniek, medveďov o dve štvrtiny menej ako srniek a motýľov dvakrát viac ako medveďov? Korytnačka

a zajac boli pripravení na štart a preteky začali. Zajac bežal rýchlosťou 60 km/h, zatiaľ čo korytnačka o dve tretiny menej. Akou rýchlosťou išla korytnačka? Keď zajac videl, že korytnačka prešla len okolo 100 metrov, rozhodol sa, že si ľahne k stromu a počká kým dobehne. Kým však prišla, zajac zaspal. Ona potichu prešla okolo neho a pokračovala v behu. Keď prišla do cieľa a všetky zvieratá začali kričať, v tom sa zajac prebudil. Darmo bežal 120 km/h, korytnačka už bola v cieľi. O koľko percent sa zvýšila zajacova rýchlosť? Keď prišiel aj on do cieľa, tak chvastavý zajac vyšiel na posmech. A zvieratá s korytnačkou oslavovali zaslúžené víťazstvo.

Poškoláci

(Stanislav Kaník)



Bola raz jedna parta chalanov. Každý deň boli po škole a dostávali zlé známky. Raz sa vkradli do kabinetu. Noro ukradol 20 učebníc, Peťo ukradol 30 učebníc a Samo 15 učebníc. Norovi pri behu vypadli 2 knihy, Peťovi 6. Samo nestratil ani jednu. Koľko učebníc ukradli spolu? Na ceste ich prichutil učiteľ a dal im trest. Norovi dal napísať 200-krát, Peťovi 300-krát a Samovi 100-krát, že sa nekradne. Noro napísal iba 175-krát, Peťo iba 193-krát a Samo stihol 100-krát. Koľkokrát napísali trest spolu? Učiteľ im zvyšok

odpustil pod podmienkou, že sa budú chovať slušne a nebudú chodiť poza školu. Oni mu to sľúbili, ale iba s prekríženými prstami.

Veverička Veronika a medved' Macko

(Veronika Grmanová a Soňa Kubášková)



Raz jedného slnečného dňa sa medved' Macko rozhodol, že pôjde do lesa na maliny. Keď prišiel do lesa, na jednom kríku rástlo 55 malín a na druhom kríku rástlo 2-krát viac malín. Koľko malín rástlo na obidvoch kríkoch spolu? Keď sa Macko vracal s malinami, stretol veveričku Veroniku. Po dlhom rozprávaní ju pozval do zvieracej kaviarne FUFÍK na čaj. Jeden čaj stál 1,50 €. Koľko eur platili, ak si kúpili 2-krát čaj a k tomu ešte keksy Fafelky za 2 €? Veronika sa macka opýtala: „Nemáš niečo šťavnaté pod zub?“ Macko vyložil košík s malinami na stôl. „Môže byť?“ opýtal sa Veroniky. Veronika prikývla a všetky maliny spolu zjedli. Vypili čaj, zjedli keksy, zaplatili a odišli. Macko zistil, že zjedli všetky maliny a že neskôr bude hladný. Presvedčil Veroniku, aby mu išla pomôcť. Nazbierali 2-krát viac ako predtým. Koľko malín nazbierali? Po ceste domov Macko a Veronika vyhladli. Pozreli sa na košík a začali jesť. Macko zjedol 82 malín a Veronika zvyšok. Koľko malín zjedla Veronika? Keď dojedli, rozlúčili sa a odišli domov. Keď prišiel Macko domov, bolo 22:00 hod. Macko šiel spať o 4 hodiny neskôr. Koľko bolo hodín, keď šiel Macko spať? Macko sa vyspal dosýta, aj keď sa 3-krát na 20 minút v noci prebral. Koľko minút bol v noci hore? A.....je KONIEC!

Shrekovia a Shrekovo

(Tomáš Kaník)



Bol raz jeden Shrek, ktorý býval v dedinke Shrekovo. V dedine bolo 30 domov. Každý rok pribudlo 80 domov. A každý rok zbúrali 23 domov. Koľko domov bolo v dedine za 5 rokov? V dedinke Shrekovo nastali Vianoce. Každý Shrek od Santu dostal jednu čiapku. Shrekov bolo 70. Dvadsaťpäť Shrekov odmietlo čiapku. Z 25 Shrekov zostalo 10 a chceli menší darček. Santa im porozdával kalkulačky. Koľko darčiekov bolo spolu? Na jar si v dedine Shrekovo Shrekovia chceli namontovať wifi. 30 Shrekov chcelo wifi. Jedna wifi stojí 20 €, druhá stojí 30 €. Počas mesiaca druhá wifi zlacnela o 50%.Všetci Shrekovia si kúpili prvú wifi. Koľko € spolu zaplatili?

Preteky

(Stanislav Kaník)



Bolo raz jedno mestečko, v ktorom sa neustále konali preteky športových áut. Pretekárov bolo 83. Na prvom mieste skončilo Lamborginy, na druhom Ferrari a na tretom Camara. Ale 8 áut nabúrало a 3 áutá sa rozpadli. Koľko pretekárov prišlo do cieľa? Po pretekoch si všetci išli kúpiť Coca-Colu po 1,45 €. Ale 15 si ešte kúpili hranolky s kečupom za 2 €. Koľko peňazí spolu zaplatili? Pretekári, čo mali nehodu, museli svoje áutá opraviť. Jeden opravil svoje auto za 2100 €, druhý za 1100 € a ostatní za 500 €. Koľko zaplatili za opravu spolu? Keď už mali všetci áutá opravené, mohli začať ďalšie preteky.

Červená Čiapočka

(Žanetka Števaňáková, Nikolka Krnáčová)



Jedného dňa poslala mama Červenú Čiapočku k starej mame. Do košíka jej dala: 15 koláčov, ktoré vážili 1 kg; 10 jabĺk, ktoré vážili 3,96 kg; 5 vajec, ktoré vážili 2 kg a 5 litrov mlieka, ktoré vážilo 5kg. Koľko kg mala Červená Čiapočka v košíku? Červená Čiapočka sa vybrala do lesa. Prišla k lúke plnej kvetov. Vtom zbadala vlka, ktorý sa jej spýtal, kam ide. Povedala, že ide k starej mame, ktorá býva 10 km odtiaľto. Koľko bude trvať cesta, keď 1km prejde za 1 hodinu a 49 minút? Vlk jej navrhol, aby nazbierala niekoľko kvetov pre starú mamu. Červená Čiapočka ho poslúchla, na každom kroku sa potkla a vlk sa vybral na cestu. Keď dorazila k starej mame, a chcela si pýtať leukoplast na boľavé kolená, stará mama už bola mŕtva. Nachádzala sa vo vlkovom bruchu a o chvíľu bola pri nej aj Červená Čiapočka. Keď išiel okolo chalúpy poľovník a začul vlkovo chrápanie, tak začal konať. Ako dlho mu trvalo vyslobodenie starej mamy a Červenej Čiapočky, keď jednu osobu vyslobodí za 18 minút a 29 sekúnd? Keď boli všetci vyslobodení, spoločne sa veselili. Červená Čiapočka zároveň sľúbila, že už sa nikdy nebude s nikým cudzím rozprávať a ani ho poslúchať.



Natália a topánky

(Veronika Grmanová)

Bolo raz jedno dievča, ktoré sa volalo Natália. Natália mala veľmi rada topánky. Doma už mala 25 párov topánok. Raz si však 4 páry topánok zašpinila. Koľko párov topánok jej ostalo čistých? Natália však túžila ešte po jedných pároch topánok. Tie však stáli až 68 €. Mala našetrených iba 37€. Koľko € jej ešte chýbalo, aby si mohla tieto topánky kúpiť? Po čase si zarobila toľko eur, koľko potrebovala. A tak si ich kúpila. Nosila ich až dovtedy, kým jej neboli malé.

Traja bratia

(Žaneta Števaňáková)



Žil raz jeden veľmi chudobný človek. Nemal nič iné, len troch synov a drobulinký domček. Stále rozmýšľal nad tým, ktorému synovi domček zanechať, keď sa raz pominie. Nevedel sa rozhodnúť, lebo všetkých mal rovnako rád. Snád' keby ho predal a rozdelil medzi nich peniaze? To predsa nemohol urobiť, veď už aj jeho pradedo tu žil. Povedal teda svojim synom: „Vyberte sa do sveta, vyučte sa nejakému poctivému remeslu! Keď sa vrátite domov, ten najšikovnejší dostane dom.“ Rozlúčili sa chlapci s otcom a vybrali sa, každý inou cestou. Aj si našli remeslá, všetci traja sa dobre priučili. Jeden sa stal kováčom, podkúval kráľove kone. Ako dlho mu trvalo vyrobiť jeden pár kopyt, ak za jeden pár sa počítajú štyri kopytá a 1 kopyto spraví za 5 minút? Druhý sa vyučil za holiča. Holil najväčších pánov v krajine. Koľko denne zarobil, ak denne ostrihal 24 ľudí a za jedno ostrihanie zarobil 4,45€? Najmladší zo synov sa učil u slávneho šermiara. Šikovne vedel narábať s mečom. Koľko hodín denne trávil pri šermiarovi, ak tam bol od 8:00-11:30, potom mal obedňajšiu prestávku 45 minút a po prestávke tam bol ešte 4 hodiny a 28 minút? Keď sa všetci vrátili, otec si ich zavolať. Každý mu predviedol svoje remeslo. No najviac sa potešil najmladšiemu synovi a tomu aj daroval dom. Ale pretože to boli dobrí bratia, zostali spolu. Každý v tom makovom domčeku pokračoval vo svojom remesle. Kováč podkúval, holič holil a šermiar učil mládencov šermovať. A takto v mieri a láske nažívali v chalúpke, až kým nepomreli.

Pat a Mat

(Tomáš Kaník)



Boli raz dvaja bratia. Chceli si zariadiť dom. V banke mali vložených 5999 €. Chceli si vybrať 50% z úspor v banke na zariadenie. Potom si kúpili ešte aj Zetor 3011 za 999€. Koľko eur im zostalo v banke? Pat a Mat si parádne žili v dome. Ich dom bol od kostola vzdialený 1,52 km. Od macochy Baranice z krajiny Župan bol vzdialený 3,67 km a od svojej farmy 9999 m. Koľko to bolo spolu km? Pat a Mat žili v krajine Mucha. Nad krajinou Mucha bol vrch vysoký 2,51 km. Vyšli naň za 1,5 hod. Za koľko hodín zídu dole, ak prídu skôr o 50 minút? Pat a Mat žili v luxusnom dome so psom JOHN DEERE až kým nepomreli.

Tri kozliatka

(Patrik Hajdúk)

V maštali žili raz tri kozliatka. Každý deň chodili na pastvinu pod Skorušinské vrchy. Jedného dňa museli zostať v maštali, lebo pršalo. Tak museli jesť seno. Koľko sena zjedli za hodinu, ak za 4 hodiny zjedli 7,5 kg? Na druhý deň išli na pastvinu a našli vodu. Koľko vody vypili za 3 minúty, ak za minútu vypili 0,56 litrov vody? A potom sa vrátili do maštale a žili šťastne až dovtedy, kým neskončili v gul'áši.



Zvieracie olympijské hry

(Michal Pakos)

Tento rok sa v lese konali olympijské hry. Mali sa začať o 9:00. Ale začali sa o 245 min. neskôr. O koľkej sa začali? Prvá disciplína bola hod oštepom. Zajac hodil 13 m. Líška hodila o 137 cm menej a medveď hodil o 18 dm viac ako zajac. Kto hodil

najviac? Druhá hra bola skákanie do piesku. Zajac skočil 5 m, líška 555 cm. A medveď skočil o 3 dm menej ako líška. Kto skočil najviac? A kto vyhral olympijské hry a koľko získal bodov, keď za prvé miesto dostali 3 body, za druhé miesto 2 body a za tretie miesto 1 bod?

